

1 次の日本国憲法の前文および条文を見て、()にあてはまる適当な語句を答え、以下の各問いに答えなさい。

前文

日本国民は、正当に選挙された国会における(1)を通じて行動し、われらとわれらの子孫のために、諸国民との協和による成果と、わが国全土にわたつて①自由のもたらす恵沢を確保し、政府の行為によつて再び戦争の惨禍が起こることのないやうにすることを決意し、ここに(2)が国民に存することを宣言し、この憲法を確定する。

第68条 ②内閣総理大臣は、国務大臣を任命する。但し、その過半数は、(3)の中から選ばなければならない。

第73条 内閣は、他の一般行政事務の外、左の事務を行ふ。

- 1 (4)を誠実に執行し、国務を総理すること。
- 2 外交関係を処理すること。
- 3 条約を締結すること。但し、事前に、時宜によつては事後に、(5)の承認を経ることを必要とする。

…以下省略

第94条 地方公共団体は、その財産を管理し、事務を処理し、及び行政を執行する権能を有し、(4)の範囲内で③条例を制定することができる。

第95条 一の地方公共団体だけに適用される(6)は、(4)の定めるところにより、その地方公共団体の住民の投票においてその過半数の同意を得なければ、国会は、これを制定することができない。

問1 下線部①に関連して、日本国憲法に規定されている自由権のうち、「経済の自由」にあてはまるものを次のア～エから一つ選び、記号で答えなさい。

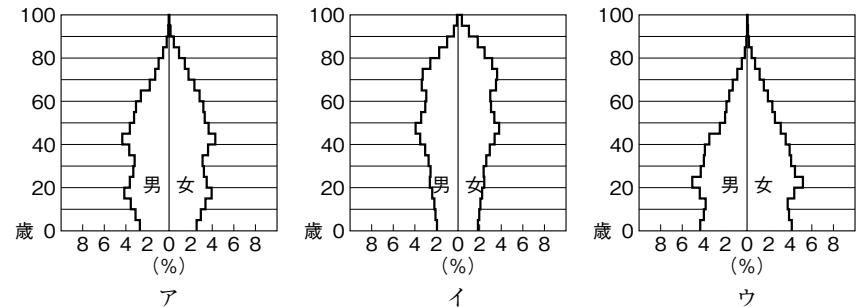
- | | |
|--------------------|------------|
| ア. 学問の自由 | イ. 職業選択の自由 |
| ウ. 奴隷的拘束および苦役からの自由 | エ. 信教の自由 |

問2 下線部②に関連して、日本の歴代内閣総理大臣に関する以下の各問いに答えなさい。

- (1) 竹下登内閣が1989年に導入した租税は何か答えなさい。
- (2) 次の写真は、竹下登の出身県にある世界文化遺産「石見銀山」の坑道入り口のものであるが、石見銀山は何県にあるか答えなさい。



(3) (2)の県などでは過疎化が進展している一方で、現代の日本社会全体では少子高齢化が進展している。次のグラフは、日本の1970年・1990年・2019年における年齢階級別人口構成を示したものである。2019年のグラフはどれか、次のア～ウから選び、記号で答えなさい。



『日本国勢図会2020/21』による

- (4) 日本の初代内閣総理大臣である伊藤博文について述べた文章として正しいものを、次のア～エから一つ選び、記号で答えなさい。
- ア. 憲法の起草者としてアメリカに派遣された。
 - イ. 征韓論をめぐる政変で政府を去った。
 - ウ. 1909年に中国の独立運動家に暗殺された。
 - エ. 下関講和会議に総理大臣として出席した。

- (5) 伊藤博文の出身地である山口県には、石灰岩地域に発達する次の写真のようなカルスト台地が見られるが、この台地を次のア～エから一つ選び、記号で答えなさい。



- ア. 秋吉台 イ. 根釧台地 ウ. シラス台地 エ. 下総台地

- (6) 伊藤博文の出身地である山口県の地場産業を、次のア～エから一つ選び、記号で答えなさい。
- ア. 加賀友禅 イ. 清水焼 ウ. 小千谷縮^{ちぢみ} エ. 萩焼

- 問3 下線部③に関連して、地域住民が条例の制定や改廃を求めることを何というか、次のア～エから一つ選び、記号で答えなさい。
- ア. リコール イ. レジスタンス
 - ウ. イニシアティブ エ. デモクラチア

- ② キョウヘイさんは社会の授業の中で「世界の中学生」に着目し、世界の中学生に関わることを調べてまとめることにした。以下の各問いに答えなさい。

国	調べた内容
オマーン	①日本と同じく小学校6年、中学校3年、高校3年で、義務教育は小学校までとなっている。公立学校では②イスラームの教えにより、③男女別々の学校に通う。
④ドイツ	6歳から基礎学校に4年間通ったあと、成績や親・本人の希望によってギムナジウム(中高一貫校)・実科学校・基幹学校のいずれかに進む。義務教育は9年～10年である。
⑤中国	小学校6年間、初級中学3年間の9年間が義務教育で、日本と同じ制度になっている。
⑥ケニア	初等教育8年間、中等教育4年間であるが、義務教育は小学校のみ。卒業のときに初等教育修了認定試験を受ける。
⑦オーストラリア	州によってちがいはあるが、初等教育は6～7年、中学校3～4年、高校2年となっている。義務教育は中学校までだが、中高一貫教育となっている。
⑧ペルー	小学校6年間、中学校5年間の11年間が義務教育の期間である。そのあとの大学は5年となっている。

- 問1 下線部①について、以下の各問いに答えなさい。

- (1) 次のア～エの文章は近代以降の日本の教育についてまとめたものである。19世紀末の文章に該当するものを一つ選び、記号で答えなさい。
- ア. 小学校の就学率は向上して、男女とも90%をこえるようになった。
 - イ. 新しい日本の教育の基本を確立するために、教育基本法が制定された。
 - ウ. 庶民の教育の場として生まれた寺子屋がいちじるしく増え、「読み・書き・そろばん」のできる庶民が多くなった。
 - エ. 教育勅語を儀式のたびに朗読させて、生徒たちのあいだに忠君愛国の精神を植えつけようとした。

(2) 日本という国号や天皇という称号が使われはじめたのは天武天皇のころからだとされているが、天武天皇に関する内容として正しいものを次のア～エから一つ選び、記号で答えなさい。

- ア. 白村江の戦いで大敗した。 イ. 壬申の乱に勝利して即位した。
ウ. 大宝律令を制定した。 エ. 墾田永年私財法を制定した。

問2 下線部②について、誤っているものを次のア～エから一つ選び、記号で答えなさい。

- ア. イスラームの礼拝堂をモスクという。
イ. メッカのカーバ神殿は第一の聖地として、世界中から多くの巡礼者が訪れる。
ウ. キリスト教・仏教とともに世界三大宗教の一つである。
エ. イスラームということばは、唯一の神ムスリムへの絶対的服従という意味である。

問3 下線部③について、次の文章は1999年に公布された法律の一部であり、日本では近年、職業だけでなく家庭生活においても男女が協力しあい、性別にかかわらず個性や能力を發揮して、ともに活躍できる社会がめざされている。文章の空欄にあてはまる語句を漢字8字で答えなさい。

第一条 この法律は、男女の人権が尊重され、かつ、社会経済情勢の変化に対応できる豊かで活力ある社会を実現することの緊要性にかんがみ、【 】の形成に関し、基本理念を定め、並びに国、地方公共団体及び国民の責務を明らかにするとともに、【 】の形成の促進に関する施策の基本となる事項を定めることにより、【 】の形成を総合的かつ計画的に推進することを目的とする。


問4 下線部④について、以下の各問いに答えなさい。

(1) 1919年にドイツではワイマール憲法が定められ、世界で初めて社会権が保障された。社会権を説明した文章として誤っているものを次のア～エから一つ選び、記号で答えなさい。

- ア. 社会権は「20世紀的人権」ともよばれている。
イ. 社会権は、主権者である国民が政治に参加する権利を保障している。
ウ. 社会権の一つである生存権は、「健康で文化的な最低限度の生活を営む権利」のことである。
エ. 社会権の一種として、教育を受ける権利や勤労の権利などが保障されている。

(2) ドイツの国旗とドイツに関する説明の組み合わせとして正しいものを次のア～エから一つ選び、記号で答えなさい。

入試ではカラー印刷で出題



①



②

- ③. 「EUの穀倉」とよばれる世界有数の小麦生産国
④. 自動車工業などがさかんなヨーロッパ最大の工業国

- ア. ①－③
イ. ①－④
ウ. ②－③
エ. ②－④

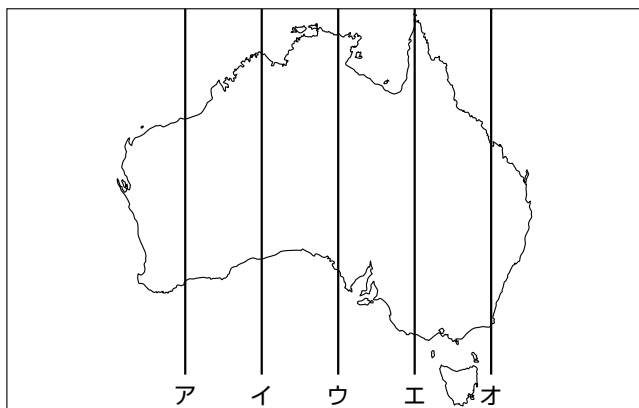
問5 下線部⑤について、中国に関する次のA～Dのできごとを古い順に並び替えたものとして正しいものを次のア～エから一つ選び、記号で答えなさい。

- A. 明治政府は、江戸時代にはかぎられた貿易関係しかなかった清と対等な条約を結んで、正式な国交をはじめた。
- B. 開国後の朝鮮では、日本との貿易がはじまるとともに物価が上昇し、民衆は生活に苦しみ、不満を強めた。その後、農民が反乱をおこすと、東学を信じる指導者のもとで大反乱へと発展したため、清と日本は軍隊を派遣した。
- C. イギリスはインドの農民に生産させたアヘンを中国に密輸し、利益を上げるようになった。これを阻止しようとした清とイギリスとのあいだで戦争がおこった。
- D. 列強による中国侵略が進むと、民衆が欧米の勢力を排斥しようと運動をおこした。このうごきを欧米やロシア・日本の軍隊が鎮圧したのちも、ロシアは軍隊を中国東北部に駐留させ続けた。

- ア. A→C→B→D イ. A→D→B→C
- ウ. C→B→D→A エ. C→A→B→D

問6 下線部⑥について、ケニアをはじめとするアフリカ諸国の国境はまっすぐな線で区切られていることがある。これは植民地時代の境界線を引き継いだためであるが、そのことによる問題点を簡潔に答えなさい。

問7 下線部⑦に関連して、東経135°の経線を地図中のア～オから選び、記号で答えなさい。



問8 下線部⑧について、ペルーをはじめとする南アメリカ大陸の太平洋側には、6000mをこえる高い山々がそびえているが、この世界最長の山脈を何というか、次のア～エから一つ選び、記号で答えなさい。

- ア. アンデス山脈 イ. ロッキー山脈
- ウ. ヒマラヤ山脈 エ. アパラチア山脈

3 下の表はある中学校の修学旅行の行程表である。この修学旅行に関する以下の各問いに答えなさい。

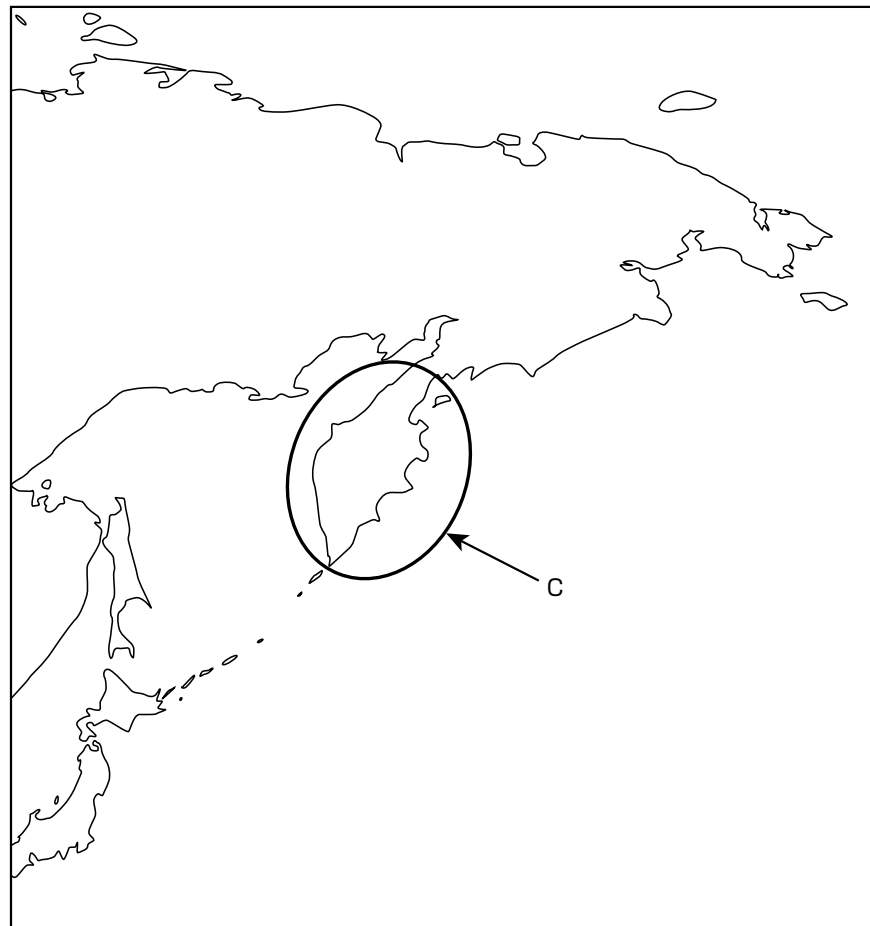
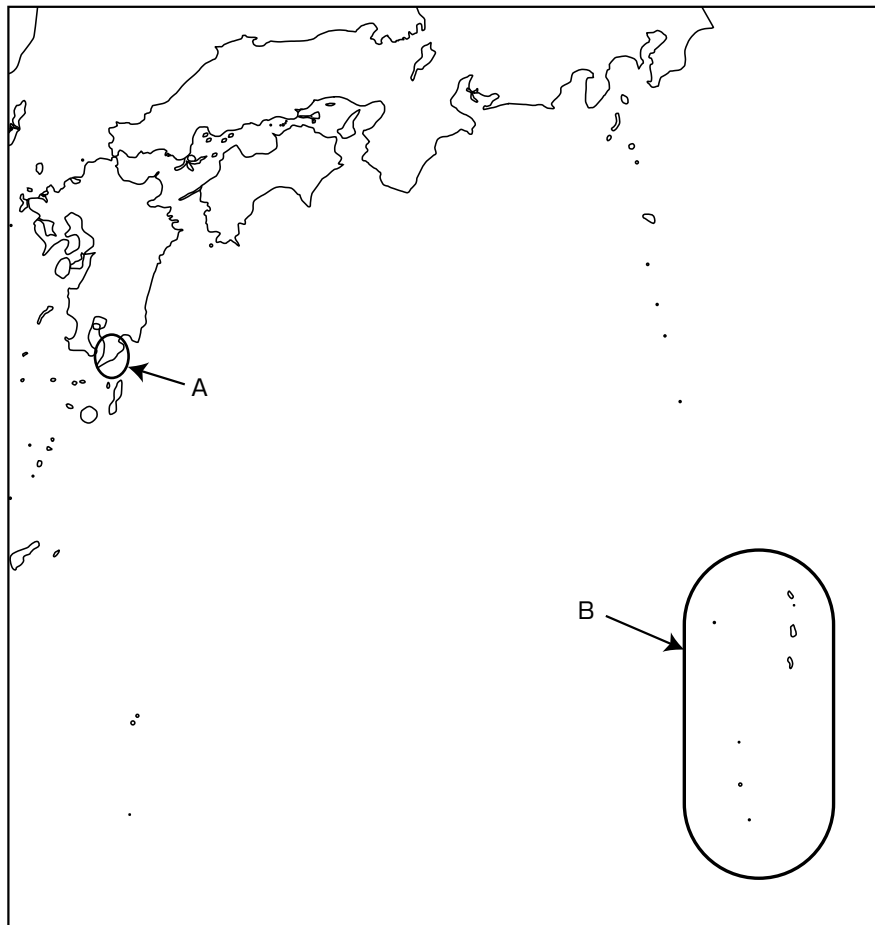
月日	行 程	宿 泊
9/11	伊丹空港－鹿児島空港＝大崎町＝桜島～鹿児島市内で夕食	鹿児島県
9/12	鹿児島市内＝熊本城＝熊本港～島原港＝長崎市内で夕食	長崎県
9/13	長崎市内(班別自主研修)＝ハウステンボス＝佐賀市内で夕食	佐賀県
9/14	佐賀市内＝吉野ヶ里遺跡＝福岡県庁＝博多駅**新大阪駅	
備考	新幹線** バス＝ 船～ 航空機－	

問1 鹿児島県の大崎町は、環境省がおこなう調査において12年連続でゴミのリサイクル率全国1位になった町である。次のア～エのうち環境省の業務として誤っているものを一つ選び、記号で答えなさい。

- ア. 公害防止のとりくみ イ. 産業廃棄物の抑制
- ウ. 自然環境の保護 エ. 農山漁村の振興

問2 次の表は鹿児島市危機管理課が発行している「桜島火山ハザードマップ」の一部を抜粋したものである。下の地図は、表のA～Cの場所を示している。A～Cにあてはまるものを、それぞれ記号で選び答えなさい。

大正噴火 大正3年(1914年)	西側・東側の両山腹から噴火。流出溶岩により、(A)半島と陸続きに。火山灰は(B)諸島、(C)半島まで達した。
---------------------	--



* 2つの地図の縮尺は異なる。

- | | | | |
|---------------|----------|---------|-----------|
| A：ア. 大隅 | イ. 渥美 | ウ. 薩摩 | エ. 房総 |
| B：ア. 伊豆 | イ. 小笠原 | ウ. 隠岐 | エ. 南西 |
| C：ア. スカンディナビア | イ. リャオトン | ウ. アラスカ | エ. カムチャツカ |

問3 熊本城は17世紀の前半に完成した。このころの様子について述べた文章として正しいものを次のア～エから一つ選び、記号で答えなさい。

- ア. 織田信長は、尾張の小さな大名であったが、駿河の今川義元の大軍を桶狭間で破り、勢力を拡大した。
- イ. 明智光秀は、織田信長の家臣であったが、京都の本能寺に滞在中の信長を襲撃した。
- ウ. 豊臣秀吉は、16万人の大軍を朝鮮におくったが、明との講和交渉にもなって退却した。
- エ. 徳川家康は、全国各地の大名を従えて、征夷大將軍となって江戸に幕府を開いた。

問4 島原港がある長崎県島原市周辺では、1637年に島原・天草一揆がおこった。島原・天草一揆について述べた次の文中の①・②にあてはまる語句の組み合わせとして正しいものを、次のア～エから一つ選び、記号で答えなさい。

1637年、九州の島原半島・天草諸島で領主の重い年貢の取り立てと(①)教徒の迫害に対して、約4万人の浪人と農民が一揆をおこした。幕府は12万の大軍を派遣し、5ヶ月後ようやく一揆をしずめた。この一揆ののち、幕府は(①)教徒に対する取り締まりを強め、(②)を徹底した。

- ア. ① キリスト(カトリック) ② 異国船打払
- イ. ① キリスト(カトリック) ② 絵踏
- ウ. ① キリスト(プロテスタント) ② 異国船打払
- エ. ① キリスト(プロテスタント) ② 絵踏

問5 長崎市について、以下の各問いに答えなさい。

- (1) 2020年8月9日に長崎市でおこなわれた原爆犠牲者慰霊平和祈念式典での安倍前首相のあいさつ文では、「核兵器のない世界」ということばを使っていた。この「核兵器のない世界」の構想は2009年4月5日にチェコのプラハでアメリカ合衆国大統領が演説をしている。この演説をし、ノーベル平和賞を受賞した大統領はだれか答えなさい。

問題は次のページに続きます。

- (2) 次の地形図は、長崎市内の研修の際に各班に配布したものである。地形図について述べた次の文章のうち、誤っているものを次のア～エから一つ選び、記号で答えなさい。

入試ではカラー印刷で出題



令和元年国土地理院発行 2万5千分の1「長崎西北部」より作成

- ア. 平和公園駅の南側では、河川が合流している。
- イ. 浦上駅の東側には官公署や墓地がある。
- ウ. 淵神社駅と稲佐岳駅のあいだには果樹園や水田がみられる。
- エ. 長崎駅の南側に県庁があり、南東には市役所がある。

問6 ハウステンボスはオランダの街並みを再現したテーマパークである。オランダに関する以下の各問いに答えなさい。

(1) 17世紀ごろにオランダはアジア貿易に参入し、ヨーロッパのアジア貿易を支配するようになった。このときにオランダが植民地としていた国を次のア～エから一つ選び、記号で答えなさい。

- ア. タイ イ. インド ウ. 韓国 エ. インドネシア

(2) 下の表のア～エは、オランダ、フランス、ドイツ、イタリアのいずれかの食料自給率を示している。オランダをあらわしているものを一つ選び、記号で答えなさい。

(%)

	小麦	いも類	野菜類	果実類	肉類	牛乳乳製品
ア	22	200	290	28	207	200
イ	124	124	41	28	113	119
ウ	179	127	78	62	102	128
エ	61	54	136	108	79	66

『平成26年度 食料需給表』による

問7 吉野ヶ里遺跡では、弥生時代の生活の様子がわかるものが多く見つかっている。次のア～エのうち、弥生時代と関わりの深いものを一つ選び、記号で答えなさい。

- ア. イ. ウ. エ.



問8 福岡県庁では地方自治について学んだ。地方自治について述べた文章として誤っているものを次のア～エから一つ選び、記号で答えなさい。

- ア. 現代の地方自治は、地域のあり方や地域住民の意思を尊重するという考え方にもとづいている。
 イ. 自分たちのことは自分たちで決めるという民主化を目的に制定されたのが、地方自治法である。
 ウ. 地方自治体の長である市町村長や都道府県知事は、地方議会を通じた間接選挙で選ばれる。
 エ. 地域住民がその地域に必要な政治をみずからおこなうために、地方公共団体の権限を拡大することが地方分権である。

問9 次の表は、この修学旅行で宿泊する鹿児島県、長崎県、佐賀県についての都道府県ランキングをまとめたものである。組み合わせとして正しいものを次のア～カから一つ選び、記号で答えなさい。

	①	②	③
面積 ランキング	10位	37位	42位
海岸線総延長 ランキング	3位	2位	31位
島の数 ランキング	2位	1位	29位

*島は外周100m以上のもの
 『環境省 環境統計集』などにより作成

	①	②	③
ア	鹿児島県	長崎県	佐賀県
イ	鹿児島県	佐賀県	長崎県
ウ	長崎県	鹿児島県	佐賀県
エ	長崎県	佐賀県	鹿児島県
オ	佐賀県	鹿児島県	長崎県
カ	佐賀県	長崎県	鹿児島県

問10 この修学旅行の実施時期から考えて台風が心配される。台風と関係の深い自然現象を次のア～エから一つ選び、記号で答えなさい。

- ア. 高潮 イ. 津波 ウ. 火砕流 エ. 液状化現象

4 ユウジさんは、スキー部の説明会に参加しています。次の会話文A・Bを読んで以下の各問いに答えなさい。

<会話文A>

先輩A：スキー部の説明会に参加してくれてありがとうございます。スキー部はチーム丸となって、活動をしています。今日は、冬合宿と全国大会について説明させていただきます。

先輩B：まず、①大阪城に集合しバスで移動します。目的地は、②長野県にある野沢温泉村です。12月の中ごろから、約1ヶ月間の合宿生活をします。③クリスマスやお正月も部員とともに過ごしますので、より仲が深まります。

先輩C：僕は中学校では野球部に所属していたので、高校生になって初めてスキーをしました。最初は思うようにいかず、悩んでいましたが、先輩や仲間たちと活動しているうちに、徐々に滑ることができるようになりました。夏は④高知県でのトレーニング合宿をおこない体力強化に励みます。

先輩A：では、ここで質問がある人はいませんか。

ユウジ：野沢温泉村はどのような場所ですか。

先輩A：野沢温泉村は昔からの言い伝えによると、奈良時代に僧侶である⑤行基が訪れ、ここに⑥温泉があることを知り、広まったとする説があります。その後、「湯山村」として歴史上に登場するのは⑦文永9(1272)年のことです。村の周辺には⑧千曲川とよばれる一級河川も流れています。また、⑨オーストラリアのサントアントンと姉妹村提携もしています。

ユウジ：ありがとうございます。野沢温泉村のことがよくわかりました。

問1 下線部①について、大阪城を築いた豊臣秀吉に関して述べた文章として正しいものを次のア～エから一つ選び、記号で答えなさい。

- ア. 刀狩令を出し、農民から刀・鉄砲などの武器を取り上げた。
- イ. 目安箱をおいて庶民の投書を直接受けつけた。
- ウ. 将軍の補佐役として管領を置いた。
- エ. 京都に六波羅探題を置いて朝廷を監視した。

問2 下線部②について述べた文章として正しいものを次のア～エから一つ選び、記号で答えなさい。

- ア. 江戸時代には、「天下の台所」とよばれた。
- イ. 長野県の中心部は、23の特別区から構成されている。
- ウ. 県東部の三陸海岸は入り江の多いリアス式海岸が続いている。
- エ. 夏でもすずしい気候を利用した高原野菜の産地になっている。

問3 下線部③は、キリスト教の行事であるが、キリスト教に関連して、16世紀にヨーロッパで宗教改革を行った中心人物として最も正しいものを次のア～エから一つ選び、記号で答えなさい。

- ア. マゼラン
- イ. ルター
- ウ. ロック
- エ. マルクス

問4 下線部④について、高知県は江戸時代には土佐藩とよばれていた。土佐藩出身で、薩長同盟を結ばせた人物を次のア～エから一つ選び、記号で答えなさい。

- ア. 西郷隆盛
- イ. 坂本竜馬
- ウ. 木戸孝允
- エ. 大隈重信

問5 下線部⑤について、行基が関わったできごととして最も適当なものを次のア～エから一つ選び、記号で答えなさい。

- ア. 真言宗をおこした。
- イ. 唐招提寺を建立した。
- ウ. 大仏をつくった。
- エ. 『平家物語』を編集した。

問6 下線部⑥について、日本の代表的な温泉地として有名な別府温泉や八丁原地熱発電所がある県として正しいものを次のア～エから一つ選び、記号で答えなさい。

- ア. 熊本県
- イ. 宮崎県
- ウ. 大分県
- エ. 鹿児島県

問7 下線部⑦について、文永9(1272)年は鎌倉時代であるが、鎌倉時代について、正しいものを次のア～エから一つ選び、記号で答えなさい。

- ア. 坂上田村麻呂が征夷大將軍に任命された。
- イ. 鴨長明が『方丈記』をあらわした。
- ウ. 千利休が簡素さを尊ぶ侘び茶を大成した。
- エ. ポルトガル人が種子島に流れ着き鉄砲を伝えた。

問8 下線部⑧について、「千曲」の読み方をひらがなで答えなさい。

問9 下線部⑨について、オーストラリアの先住民を何というか答えなさい。

<会話文B>

先輩A：つづいて、全国大会に出場した在校生と顧問の先生からお話していただきます。

先輩B：私は昨年インターハイに出場しました。インターハイは⑩北海道の富良野市で開催され、全国各地から多くの選手が集まりました。また、⑪イギリスや⑫ノルウェーからの留学生も参加しており、スキーを通じて世界の人と交流を持つこともできました。私にとって、スキーは高校生活で欠かすことができないものになりました。

先輩C：私は一昨年に国民体育大会に出場しました。普段、会話をすることのない雪国の人々とスキーについて話をしたことで、スキーの奥深さを改めて知ることができました。また、同年代の選手だけではなく会社員の方や⑬農業経営をされている選手の方とも、お話する機会があり充実した時間を過ごすことができました。

ユウジ：僕は、中学時代にサッカー部でした。スキーの経験は中学2年生に行った、スキー実習だけです。初心者の方でも大丈夫ですか。

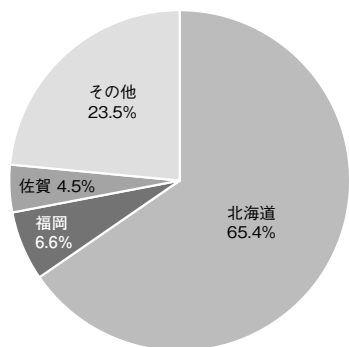
先生：大丈夫です。私もスキー部の顧問をして⑭12年になりますが、大学生のころにスキーを始めました。初めは、斜面に対して恐怖心があり、なかなかうまくいきませんでした。しかし、日々の練習を繰り返すことで徐々に上達することができました。ぜひ、挑戦する気持ちでスキー部に入学してください。

ユウジ：わかりました。先輩や先生のお話を聞いて、スキーに対して興味ができました。ありがとうございました。

問10 下線部⑩について、グラフAは北海道を主産地とするある農作物の収穫量の割合を示している。グラフBはその農作物の輸入先である。この農作物が何か次のア～エから一つ選び、記号で答えなさい。

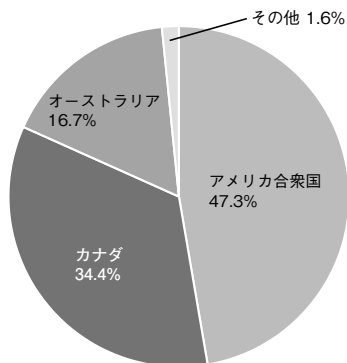
<グラフA>

主産県の収穫量の割合



<グラフB>

日本の輸入先



『日本国勢図会 2020/21』による

- ア. 小麦 イ. 米 ウ. とうもろこし エ. 茶

問11 下線部⑪について、大阪に住んでいるユウジさんはロンドンに住む友達のジョナサンに2月10日の午前7時に電話をした。その時、ロンドンでは何月何日の何時であるか。次のア～エから選び、記号で答えなさい。

- ア. 2月9日午前10時 イ. 2月9日午後10時
ウ. 2月10日午前4時 エ. 2月10日午後4時

問12 下線部⑫の一部の地域では、夏に一日中太陽が沈まない状態が続くが、これを何というか答えなさい。

問13 下線部⑬について、おもに熱帯地域にみられる大規模に単一の作物を栽培している大農園を何というか答えなさい。

問14 下線部⑭に関連して、現在(2021年)から12年前の2009年より、日本では裁判員制度が導入された。裁判員制度について述べた文章として正しいものを次のア～エから一つ選び、記号で答えなさい。

- ア. 裁判員は立候補で決める。 イ. すべての刑事裁判が対象となる。
ウ. 裁判員は6名で構成される。 エ. 民事裁判の一部も対象となる。

問題は以上です。