

1 次の日本国憲法の条文を見て、()にあてはまる適当な語句や数字を答え、以下の各問いに答えなさい。

第1条 天皇は、日本国の象徴であり日本国民統合の象徴であつて、この地位は、(1)の存する日本国民の総意に基く。

第7条 天皇は、(2)の助言と承認により、国民のために、左の国事に関する行為を行ふ。

- 一 憲法改正、法律、政令及び①条約を公布すること。
- 二 国会を召集すること。
- 三 ②衆議院を解散すること。
- …以下省略

第(3)条 すべて国民は、法の下に平等であつて、(4)、信条、性別、社会的身分又は門地により、政治的、経済的又は社会的関係において、差別されない。

第66条 ③内閣は、法律の定めるところにより、その首長たる内閣総理大臣及びその他の国務大臣でこれを組織する。

- 2 内閣総理大臣その他の国務大臣は、(5)でなければならない。
- 3 内閣は、④行政権の行使について、(6)に対し連帯して責任を負ふ。

問1 下線部①に関連して、日本が関わった戦争とその講和条約の組み合わせとして誤っているものを次のア～エから一つ選び、記号で答えなさい。

- ア. 日清戦争 — 南京条約
- イ. 日露戦争 — ポーツマス条約
- ウ. 第一次世界大戦 — ベルサイユ条約
- エ. 第二次世界大戦 — サンフランシスコ平和条約

問2 下線部②に関連して、第1回の衆議院議員の総選挙が実施された際、選挙権を与えられていたのはどのような人たちであったか、正しいものを次のア～オから一つ選び、記号で答えなさい。

- ア. 25歳以上の男子で、直接国税3円以上の納付者
- イ. 25歳以上の男子で、直接国税10円以上の納付者
- ウ. 25歳以上の男子で、直接国税15円以上の納付者
- エ. 20歳以上の男女
- オ. 18歳以上の男女

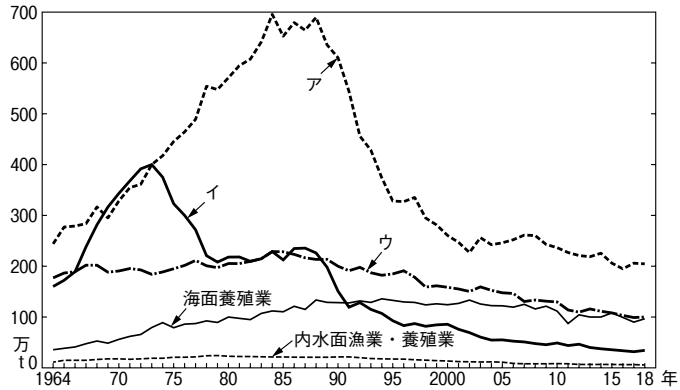
問3 下線部③に関連して、大正時代に日本ではじめて本格的な政党内閣を組織したのはだれか答えなさい。

問4 問3の人物は岩手県出身であるが、岩手県に関する以下の各問いに答えなさい。

- (1) 岩手県の地場産業を次のア～エから一つ選び、記号で答えなさい。
ア. 西陣織 イ. 南部鉄器 ウ. 有田焼 エ. 輪島塗
- (2) 岩手県の太平洋に面した都市では、これまで何度も津波による被害を受けてきたが、このような自然災害に備え、都道府県や市町村から発行されている災害予測を示した地図を何とよいか答えなさい。
- (3) 次の地図に見られるように、岩手県の太平洋側の三陸海岸には、谷に海水が入り込んでできた海岸地形がみられるが、このような地形を何とよいか答えなさい。



- (4) (3)の海岸地形では水深が深く波が穏やかなため、港の立地に適している。次のグラフは日本の「漁業種別生産量の推移」を示したものである。遠洋漁業の推移を示したものをグラフ中のア～ウから一つ選び、記号で答えなさい。ただし、グラフ中のア～ウは沖合漁業・沿岸漁業・遠洋漁業のいずれかを示している。



2011年は、東日本大震災の影響により、岩手県、宮城県、福島県においてデータを消失した調査対象は含まない。

『日本国勢図会2020/21』より作成

問題は次ページにつづく。

- 問5 下線部④に関連して、日本の行政のしくみについて説明した次の文章の()にあてはまる適当な語句や数字を答えなさい。

2001年に、日本の行政機関は(ア)府(イ)省庁体制に再編された。また、2007年には、(ウ)庁が「省」に格上げされた。

② ツヨシさんのクラスでは、日本における「女性の歴史」に着目し、4つのグループに分かれて、探究活動を実施した。以下の表は、各グループの調査テーマとその結果をまとめたものである。これを見て、以下の各問いに答えなさい。

グループ	テーマ	調査結果
A班	①参政権について	日本において女性参政権が認められたのは、1945年のことである。GHQの②占領政策の中で認められた女性参政権であるが、この影響で戦後初の総選挙では女性③国会議員が39名誕生した。しかし、現在に至るまで女性国会議員数の割合は国際的に見ても低い水準にある。
B班	就学率について	女性の教育を普及した人物の一人として津田梅子があげられる。この人物は④岩倉使節団に最年少の女子留学生として参加したことで知られている。女性の就学率は、学校制度が開始された当初は低かった。しかし、近年では女性の大学進学率が男性のそれと同水準程度に近づいている。
C班	「家」制度について	⑤大日本帝国憲法が公布されたのちに制定された民法では、一夫一婦制が定められていた。⑥この制度は「家」を中心とするものであったため、男性優位の制度であったといえる。戦後、日本国憲法が公布された。この憲法に基づいて改正された民法では、⑦男女平等の考え方が示され、男性がになっていた家長の支配権は否定された。
D班	社会進出について	近年、女性人口に対する⑧女性労働者の割合は60%を超えるようになった。1986年には男女雇用機会均等法が施行された。しかし、⑨先進国のなかでは男女間の賃金格差が比較的大きいなど、⑩女性の社会進出には解決すべき課題が日本には存在している。

問1 下線部①に関連して、以下の各問いに答えなさい。

- (1) 1925年に普通選挙法が成立したことにより有権者は増加したが、同年、共産主義を取りしめる法律も制定された。この法律として正しいものを次のア～エから一つ選び、記号で答えなさい。
- ア. 治安警察法 イ. 国家総動員法
ウ. 工場法 エ. 治安維持法
- (2) 参政権は基本的人権に含まれている権利の一つである。基本的人権について述べた文章として誤っているものを次のア～エから一つ選び、記号で答えなさい。
- ア. 基本的人権は人が生まれながらにして持っている権利である。
イ. 基本的人権は他者の人権を侵害することになったとしても保障される。
ウ. 基本的人権の考えがあらわれている言葉として「個人の尊重」が挙げられる。
エ. 日本国憲法において、基本的人権は侵すことのできない永久の権利とされている。

問2 下線部②に関連して、GHQが日本に対しておこなった占領政策について述べた文章として正しいものを次のア～エから一つ選び、記号で答えなさい。

- ア. GHQは当初、日本の非軍事化をめざし、日本における軍隊を解散させた。
イ. GHQは資本主義国との対立が激しくなると、日本を社会主義国にしようとした。
ウ. 日本の戦後復興には財閥が必要であると考えたGHQは、財閥を容認した。
エ. 朝鮮戦争の開始により、GHQは日本政府に警察力の弱体化を求めた。

問3 下線部③について、日本国憲法第41条では国会を「（ ）の最高機関」と定めている。（ ）にあてはまる語句を答えなさい。

問4 下線部④に関連して、以下の各問いに答えなさい。

- (1) 岩倉使節団に参加していなかった人物を次のア～エから一つ選び、記号で答えなさい。
- ア. 大久保利通 イ. 西郷隆盛 ウ. 木戸孝允 エ. 伊藤博文
- (2) 岩倉使節団は欧米諸国の視察をおこなったことで知られている。以下の文は現在のヨーロッパについて述べたものである。正しいものを次のア～エから一つ選び、記号で答えなさい。
- ア. EU加盟国は西ヨーロッパのみにとどまっている。
イ. EU最大の農業国であるオランダでは、小麦の食料自給率が100%を超えている。
ウ. 東ヨーロッパの国々は、西ヨーロッパとの経済格差の問題をかかえている。
エ. イタリアでおもに信仰されているキリスト教の宗派は、プロテスタントである。

問5 下線部⑤に関連して、大日本帝国憲法と日本国憲法とを比較した場合、それぞれの憲法において主権の所在はどのように異なるか、説明しなさい。

問6 下線部⑥に関連して、明治時代以降の「家」制度の説明として表から読み取れるものを次のア～エから一つ選び、記号で答えなさい。

- ア. 「家」制度では、男性と女性がともに家長をつとめた。
- イ. 「家」制度では、男性がつとめた家長に権限があった。
- ウ. 「家」制度では、女性がつとめた家長に権限があった。
- エ. 「家」制度では、女性は家の中では立派な子どもを育てることを期待された。

問7 下線部⑦に関連して、男女平等にあてはまらないものを次のア～エから一つ選び、記号で答えなさい。

- ア. 日本国憲法において、結婚には両性の合意が必要であると定められている。
- イ. 育児・介護休業法に基づいて、男女ともに育児・介護休暇を取得することができる。
- ウ. 性別にかかわらず勤労可能な職種において、男性のみの求人を出す企業がある。
- エ. 事業主は、労働者の性別を理由として差別的な取扱いをしてはならない。

問8 下線部⑧に関して、明治時代以降、女性が労働者として従事した場所の一つに富岡製糸場が挙げられる。以下の地図における富岡製糸場がある都道府県の位置と名称の正しい組み合わせを次のア～エから一つ選び、記号で答えなさい。



- ア. X-群馬県 イ. X-栃木県 ウ. Y-群馬県 エ. Y-栃木県

問9 下線部⑨に関連して、以下の表は日本、イギリス、アメリカ合衆国、オーストラリアの人口・面積・人口密度についてまとめた表である。アメリカ合衆国にあてはまるものを次のア～エから一つ選び、記号で答えなさい。

国名	人口(万人)	面積(万km ²)	人口密度(人/km ²)
ア	2,459	769	3
イ	12,770	38	338
ウ	6,580	24	271
エ	32,312	983	33

『中学校社会科地図』より作成
ただし、ア・ウは2017年、イは2018年、エは2016年のデータである。

問10 下線部⑩に関連して、次の資料A・Bはそれぞれ2016年および2020年における各国の「ジェンダーギャップ指数」を示したものである。資料A・Bから読み取れることとして、最も適切なものを次のア～エから一つ選び、記号で答えなさい。なお、「ジェンダーギャップ指数」とは男女間の格差を数値化したものであり、スコアの値が0であれば完全不平等、1であれば完全平等を示すものである。

資料A 2016年『ジェンダーギャップ指数』 資料B 2020年『ジェンダーギャップ指数』

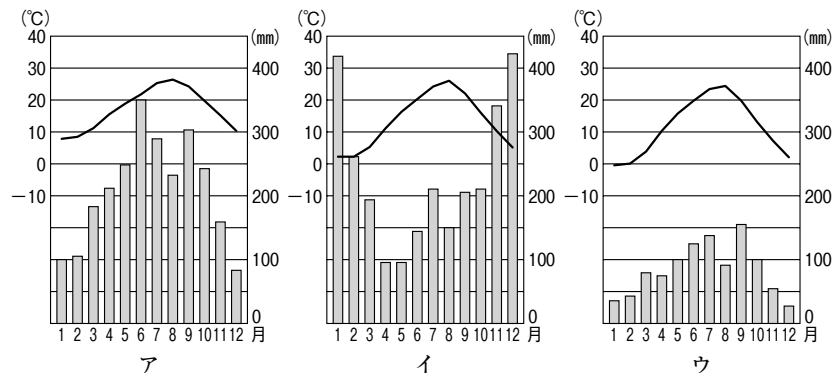
順位	国名	スコア	順位	国名	スコア
1位	アイスランド	0.874	1位	アイスランド	0.877
2位	フィンランド	0.845	2位	ノルウェー	0.842
3位	ノルウェー	0.842	3位	フィンランド	0.832
4位	スウェーデン	0.815	4位	スウェーデン	0.820
5位	ルワンダ	0.800	7位	アイルランド	0.798
6位	アイルランド	0.797	9位	ルワンダ	0.791
17位	フランス	0.755	15位	フランス	0.781
20位	イギリス	0.752	19位	カナダ	0.772
35位	カナダ	0.731	21位	イギリス	0.767
45位	アメリカ	0.722	53位	アメリカ	0.724
111位	日本	0.660	108位	韓国	0.672
116位	韓国	0.649	121位	日本	0.652

資料A・Bともに世界経済フォーラム『ジェンダーギャップ指数』より作成

- ア. 2016年と比較して、2020年のジェンダーギャップ指数のスコアが増加しているフィンランドでは、ジェンダー格差が縮小してきているといえる。
- イ. 2016年と比較して、2020年のジェンダーギャップ指数のスコアが減少しているルワンダでは、ジェンダー格差が縮小してきているといえる。
- ウ. 2016年と比較して、2020年のジェンダーギャップ指数のスコアが増加しているアイスランドでは、ジェンダー格差が拡大してきているといえる。
- エ. 2016年と比較して、2020年のジェンダーギャップ指数のスコアが減少している日本では、ジェンダー格差が拡大してきているといえる。

- 3 石川県に住んでいるケンタさんは、旅行で和歌山県に行った。これに関連する以下の各問いに答えなさい。

問1 次のア～ウは和歌山県潮岬、長野県松本、新潟県高田の雨温図である。和歌山県潮岬に該当するものを選び、記号で答えなさい。



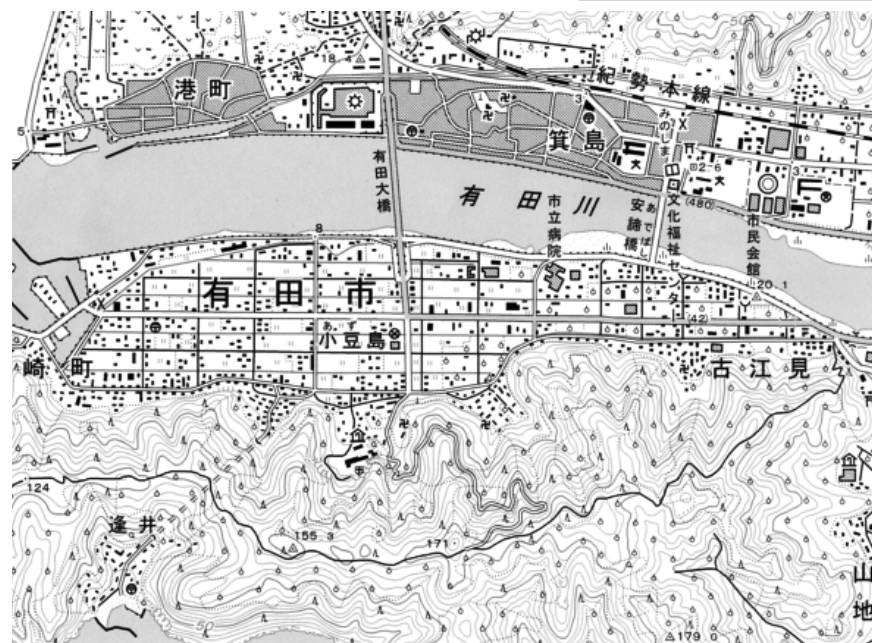
『日本国勢図会2020/21』より作成

問2 和歌山県田辺市出身の片山哲は、第46代内閣総理大臣を務めた。関連する以下の各問いに答えなさい。

- (1) 日本国憲法における内閣総理大臣について述べた文章として正しいものを次のア～エから一つ選び、記号で答えなさい。
- ア. 内閣総理大臣は、国会議員の中から国会で指名された人物が衆議院議長によって任命される。
 - イ. 内閣総理大臣は、国務大臣を任命できるが、罷免することはできない。
 - ウ. 内閣総理大臣は、行政機関の最高責任者として、閣議の中心となり、行政全体を指揮・監督する。
 - エ. 内閣総理大臣は、内閣を組織するが、すべての国務大臣を国会議員から選ばなければならない。
- (2) 片山政権は、複数の政党が協力して成立した政権である。このような政権のかたちを何というか答えなさい。

問3 ケンタさんは和歌山県の有田川周辺に着いたところで、事前に用意していた地形図で自分の現在地とその周辺の状況を確認した。次の地形図を見て、以下の各問いに答えなさい。

入試ではカラー印刷で出題



平成18年国土地理院発行 2万5千分の1「箕島」より作成

- (1) 次のア～エの文章は、地形図中の有田川の周辺についてまとめたものである。誤っているものを一つ選び、記号で答えなさい。
- ア. 有田川の南の地域には、警察署がある。
 - イ. 有田川の北と南の両方の地域に郵便局がある。
 - ウ. 有田川の北の地域には市役所がある。
 - エ. 工場は変電所の北東にある。
- (2) 有田市のみかん栽培は、約400年の歴史をもち、江戸時代には紀伊藩主の保護を受けたといわれている。紀伊藩主の一人であった徳川吉宗が、のちに江戸幕府の将軍となり、おこなった政策として正しいものを次のア～エから一つ選び、記号で答えなさい。
- ア. 湯島聖堂を幕府が直接運営する昌平坂学問所にあらためた。
 - イ. 株仲間の解散などによって物価を引き下げようとした。
 - ウ. 公事方御定書をつくって訴訟の手続きや刑罰の基準をはっきりさせた。
 - エ. 動物を保護する生類憐みの令を定めた。

問4 ケンタさんは旅行の最終日に高野山金剛峯寺を観光した。平安時代にこの寺で真言宗をおこしたのはだれか答えなさい。

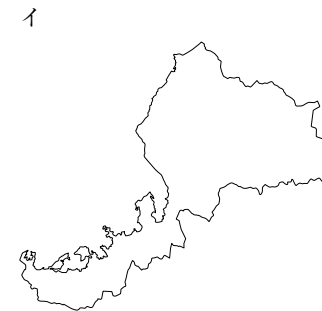
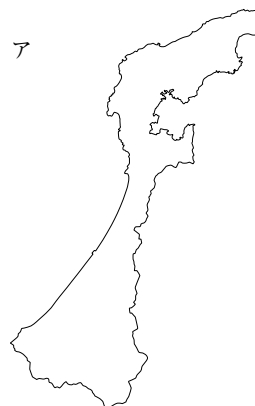
問5 ケンタさんは旅行の帰り道で、和歌山の海沿いの道を通った。以下の各問いに答えなさい。

- (1) 和歌山県串本町では、2002年世界で初めてクロマグロの完全養殖に成功した。日本のさまざまな地域で養殖業はさかんにおこなわれている。のりの養殖で日本一をほこる九州北西部の海の名前を答えなさい。
- (2) 1886年に和歌山県沖でイギリス船が難破した。イギリス人船長と船員たちはボートで脱出し、日本人乗客は全員水死した。この事件を何というか答えなさい。

問6 和歌山県から石川県へ車で帰宅する際に、ケンタさんは大阪を通過した。大阪は江戸時代、「天下の台所」といわれ、商業の中心であった。大阪には全国から集められた年貢米や特産物を保管する建物が立ち並んでいたが、これを何というか答えなさい。

問7 ケンタさんは、石川県にもどってきた。石川県では室町時代に、浄土真宗の信者が守護大名を攻め滅ぼし、約100年間自治をおこなった。このできごとを何というか答えなさい。

問8 次のア～エは、今回の旅行で通った府県の形である。石川県に該当するものを選び、記号で答えなさい。



4 次の会話文A・Bを読んで以下の各問いに答えなさい。

<会話文A>

先生：冬休みの課題レポートのテーマは、「私たちの生まれた年にあったできごとから学びを深める」でしたね。アユミさんはどのようなことを調べましたか。

アユミ：はい。私は、2005年に①愛知県で「2005年日本国際博覧会」がおこなわれたことから、万国博覧会（以下：万博）の歴史について調べました。

先生：「2005年日本国際博覧会」は、「愛・地球博」とよばれた万博ですね。万博の歴史について、どのようなことを学ぶことができましたか。

アユミ：万博は、1851年に②ロンドンで初めて開かれました。日本と万博の関わりは、1862年の遣欧使節団の視察から始まり、そのときのようすは、③『西洋事情』で紹介されました。日本からの出品は、1867年が初めてだと分かりました。

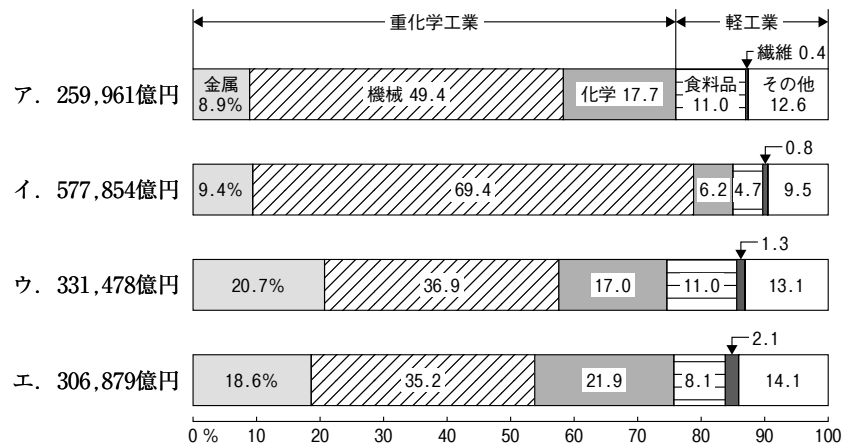
先生：よく調べられていますね。他にはどのようなことを学びましたか。

アユミ：「2005年日本国際博覧会」では、「自然の叡智^{えいち}」がテーマとなりました。このようにテーマが決められるようになったのは、④第一次世界大戦以降だそうです。また、⑤第二次世界大戦の勃発により、万博は中断され、1958年から再開されました。

先生：万博はテーマだけではなく、サブテーマも決められていますね。「2005年日本国際博覧会」のサブテーマは、「宇宙、⑥生命と情報」・「人生の“わざ”と智慧」・「循環型社会」でしたね。

アユミ：はい。調べてみると知らないことが多く、非常におもしろかったです。2025年には、大阪で万博が開かれます。とても楽しみです。

問1 下線部①について、次のグラフは日本の工業地帯・工業地域の製造品出荷額等の構成(2017年)を示したものである。愛知県を含む中京工業地帯の製造品出荷額等の構成として正しいグラフを次のア～エから一つ選び、記号で答えなさい。ただし、グラフは瀬戸内・阪神・中京・京浜工業地帯及び地域のいずれかを示している。



『日本国勢図会2020/21』より作成

問2 下線部②について、北極点からロンドンを通り、南極点までを結ぶ経度0度の線を何というか答えなさい。

問3 下線部③について、『西洋事情』の著者である福沢諭吉が創設した学校として正しいものを次のア～エから一つ選び、記号で答えなさい。

- ア. 女子英学塾 イ. 同志社英学校
- ウ. 慶應義塾 エ. 東京専門学校

問4 下線部④について、第一次世界大戦の結果、ドイツは多額の賠償金の支払いを義務づけられたうえ、海外のすべての植民地と本国の領土の一部を失った。現在のドイツの位置として正しいものを次のア～エから一つ選び、記号で答えなさい。



問5 下線部⑤について、第二次世界大戦中に起きたできごとについて述べた文として正しいものを次のア～エから一つ選び、記号で答えなさい。

- ア. 日本軍はアメリカ領のマレー半島に上陸する一方で、ハワイの真珠湾にあるイギリス海軍基地を攻撃した。
- イ. 日本が支配していたサイパン島はアメリカ軍によって占領され、加藤高明内閣は総辞職した。
- ウ. 中学生や女学生が軍需工場で働くようになるだけでなく、これまで徴兵されなかった大学生たちも戦場にかり出された。
- エ. 沖縄にはアメリカ軍が上陸し、地上での戦闘が行われたが、民間人がまきこまれることはなかった。

問6 下線部⑥に関連して、日本国憲法第25条では、社会権の中で基本となる、「健康で文化的な最低限度の生活を営む権利」を保障している。この権利を何というか答えなさい。

<会話文B>

先生 : アユミさんは、万博についてくわしく調べることができていましたね。ナツキさんはどのようなことを調べましたか。

ナツキ : はい。私は、⑦北海道の⑧知床が2005年に世界自然遺産に登録されたことから、⑨世界遺産について調べました。

先生 : 知床は、日本の世界自然遺産の中で最も面積が広いですね。世界遺産についてどのようなことを学ぶことができましたか。

ナツキ : 日本の世界遺産は2020年4月時点で、文化遺産が19件、自然遺産が4件です。⑩1993年、日本から初めて⑪「法隆寺地域の仏教建造物」と「姫路城」が文化遺産、「白神山地」と「屋久島」が自然遺産として登録されました。世界遺産登録には多くの過程が必要だということも学ぶことができました。

先生 : よく調べられていますね。他にはどのようなことを調べましたか。

ナツキ : はい。私は、妹の生まれた年に登録された沖縄県にある世界遺産も調べました。

先生 : 「⑫琉球王国のグスク及び関連遺産群」ですね。どのようなことがわかりましたか。

ナツキ : ⑬15世紀前半に成立した琉球王国では、国際色豊かな独特の文化が形成され、その特色を如実に反映している文化遺産が城だということが分かりました。

先生 : 沖縄の城についてなど、よりくわしく調べるとおもしろそうですね。2人ともよくがんばりました。

問7 下線部⑦について、北海道の釧路湿原などは、国際的に重要な水鳥や湿地を守るためにつくられた国際条約で保護されている。この条約を何というか答えなさい。

問8 下線部⑧について、「知床」の読み方をひらがなで答えなさい。

問9 下線部⑨について、以下の各問いに答えなさい。

(1) 2021年4月時点で日本にある世界遺産の名称と所在地の組み合わせとして誤っているものを次のア～エから一つ選び、記号で答えなさい。

- ア. 小笠原諸島 — 東京都
- イ. 厳島神社 — 広島県
- ウ. 原爆ドーム — 長崎県
- エ. 日光の社寺 — 栃木県

(2) 世界遺産登録をになうユネスコは国際連合の専門機関である。東京が1月1日の午前10時のとき、国際連合の本部があるニューヨークの時刻として正しいものを次のア～エから一つ選び、記号で答えなさい。なお、ニューヨークは西経75度とする。

- ア. 12月31日午後8時 イ. 1月1日午前3時
- ウ. 1月1日午後4時 エ. 1月2日午前0時

問10 下線部⑩について、1993年に発足したEUから2016年に国民投票により離脱を選んだ国として正しいものを次のア～エから一つ選び、記号で答えなさい。

- ア. フランス イ. ドイツ ウ. イタリア エ. イギリス

問11 下線部⑪について、法隆寺を創建した聖徳太子について述べた文として正しいものを次のア～エから一つ選び、記号で答えなさい。

- ア. 持統天皇の摂政となり、蘇我馬子と協力して政治をおこなった。
- イ. 冠位十二階の制度を定め、役人の登用には家がらを重視した。
- ウ. 十七条の憲法を定め、役人のこころえを示した。
- エ. 小野妹子らを宋に派遣し、対等の立場で国交を結ぼうとした。

問12 下線部⑫について、東南アジアと東アジアを結ぶ重要拠点であった琉球王国は、どのような貿易によって栄えたか、答えなさい。

問13 下線部⑬について、次のア～エの文章のうち、15世紀におこったできごとを一つ選び、記号で答えなさい。

- ア. 京都で応仁の乱がおこった。
- イ. 種子島に鉄砲が伝来した。
- ウ. 元軍が九州北部に襲来した。
- エ. 織田信長が桶狭間の戦いで今川義元をやぶった。